


Intentos	Estímulos
1	
2	
3	
4	
5	
Total	

Nombre: _____ Fecha: _____

Destrezas: Determina si una relación es una función a partir de su grafica o su descripción verbal.

Identifica si es esta relación es una función:

Regla:



_____ si _____ no

Mi desempeño de hoy fue:





Par: _____ Grado: _____

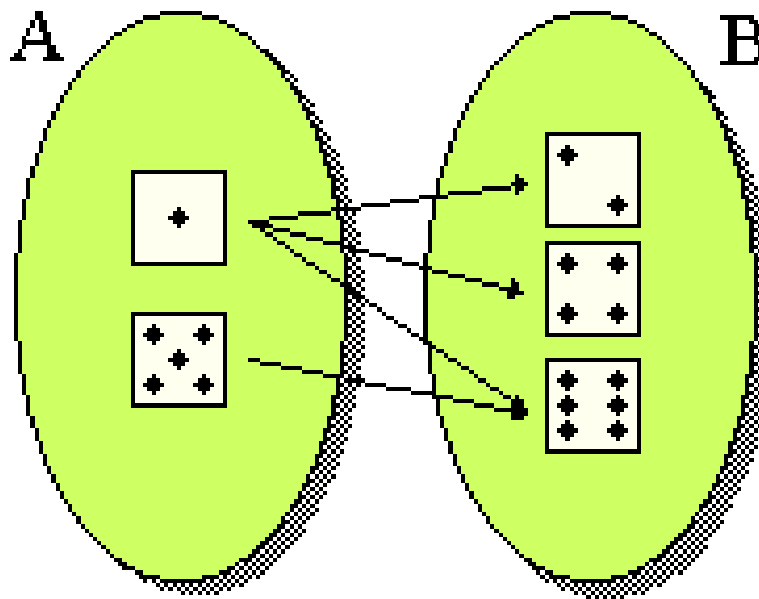
Ambiente: _____

Intentos	Estímulos
1	
2	
3	
4	
5	
Total	

Nombre: _____ Fecha: _____

Destrezas: Determina si una relación es una función a partir de su grafica o su descripción verbal.

Identifica si la siguiente gráfica es relación o una función:



A menor que **B**

- a) _____ relación
 b) _____ función

Mi desempeño de hoy fue:  _____  _____

Par: _____ Grado: _____

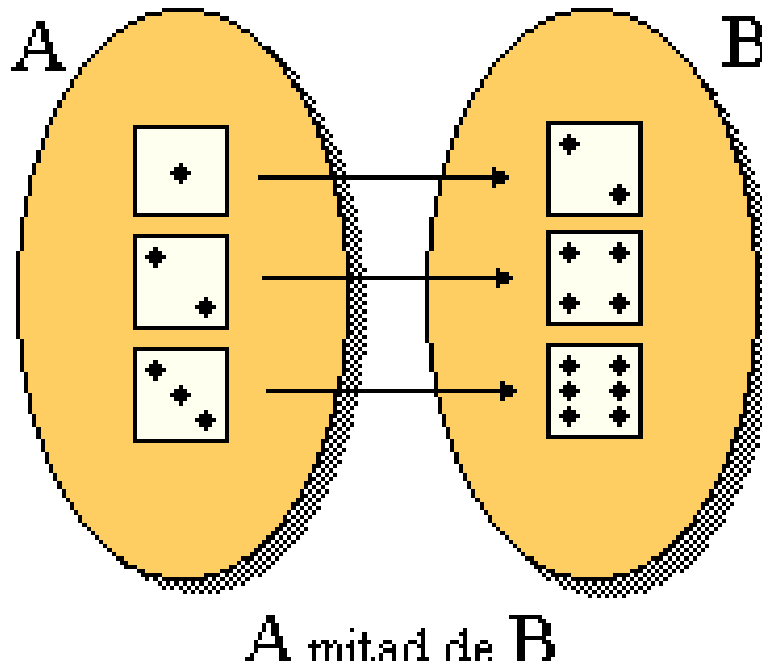
Ambiente: _____

Intentos	Estímulos
1	
2	
3	
4	
5	
Total	

Nombre: _____ Fecha: _____

Destrezas: Determina si una relación es una función a partir de su gráfica o su descripción verbal.

Identifica si la siguiente gráfica es relación o una función:



c) _____ relación

d) _____ función

Mi desempeño de hoy fue:  _____  _____

Par: _____ Grado: _____

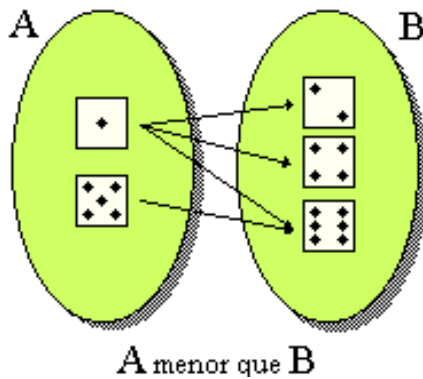
Ambiente: _____

Intentos	Estímulos
1	
2	
3	
4	
5	
Total	

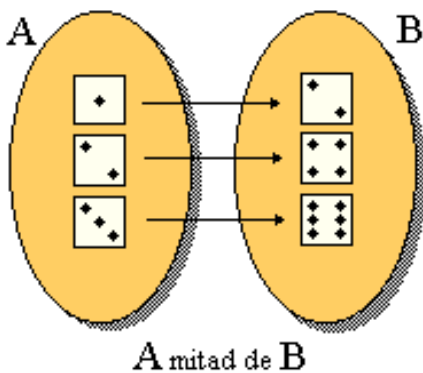
Nombre: _____ Fecha: _____

Destrezas: Determina si una relación es una función a partir de su gráfica o su descripción verbal.

Parea la gráfica que representa una relación o una función:



Función



Relación

Mi desempeño de hoy fue:





Par: _____

Grado: _____

Ambiente: _____

Intentos	Estímulos
1	
2	
3	
4	
5	
Total	


Nombre: _____ Fecha: _____


Destrezas: Determina si una relación es una función a partir de su grafica o su descripción verbal.


Recorta y pega la lámina que corresponda para formar una función:

Regla:









_____ si _____ no

Mi desempeño de hoy fue:





Par: _____ Grado: _____

Ambiente: _____




Intentos	Estímulos
1	
2	
3	
4	
5	
Total	

Nombre: _____ Fecha: _____

Destrezas: Determina si una relación es una función a partir de su grafica o su descripción verbal.

Parea cada relación para formar una función:

Regla:



Mi desempeño de hoy fue:





Par: _____ Grado: _____

Ambiente: _____