


Nombre: _____

Intentos	Estímulos

Fecha: _____

Destreza: Compondrá y descompondrá números cardinales (N.SN.3.1.8).

Instrucciones: Usando los dibujos, compón el número representado.



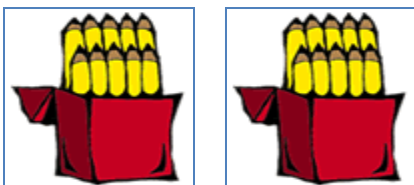
decenas + unidades =



decenas + unidades =



decenas + unidades =



decenas + unidades =



decenas + unidades =

Hoy hice la tarea:



Par: _____ Grado: _____

Ambiente: SR SC B P LC

Nombre: _____

Fecha: _____



Intentos	Estímulos



Destreza: Compondrá y descompondrá números cardinales (N.SN.3.1.8).



Instrucciones: Usando los dibujos, compón el número representado.

		decenas	unidades
_____	_____	tens	ones
_____	_____		

		decenas	unidades
_____	_____	tens	ones
_____	_____		

		decenas	unidades
_____	_____	tens	ones
_____	_____		

		decenas	unidades
_____	_____	tens	ones
_____	_____		

		decenas	unidades
_____	_____	tens	ones
_____	_____		

Hoy hice la tarea:  

Par: _____ Grado: _____

Ambiente: SR SC B P LC

Nombre: _____

Intentos

Estímulos

Fecha: _____


Destreza: Compondrá y descompondrá números cardinales (N.SN.3.1.8).

Instrucciones: Marca con una X la cantidad de decenas y unidades que hay en el numero dado.


decenas

unidades


12




17




11



15



13



Hoy hice la tarea:



Par: _____ Grado: _____

Ambiente: SR SC B P LC